

ひきざんを しよう

()月()日 名前

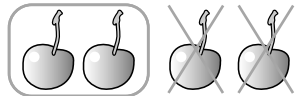


イラストを かぞえて けいさんしよう



おかねを かぞえて けいさんしよう

$4 - 2 = \square$




のこりは
いくつ?

$3 - 2 = \square$



のこりは
なんえん?

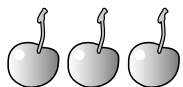
$5 - 4 = \square$



$4 - 3 = \square$



$3 - 1 = \square$



$5 - 1 = \square$

