


ひく0の けいさんを しよう

$$3 - 0 = \square$$



のこりは  
なんこ？


ひく<sup>ゼロ</sup>って 1こも  
たべないことなんだね



$$5 - 0 = \square$$



1こも  
たべていないよ

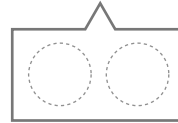


( )<sup>がつ</sup>月( )<sup>にち</sup>日 <sup>なまえ</sup>名前



<sup>まる</sup>○をかいて けいさんしよう

$$2 - 0 = \square$$



$$4 - 0 = \square$$



$$1 - 0 = \square$$

